








NOM : .....	<b>FUNCTIONNEMENT DE L'OBJET TECHNIQUE</b>	<b>S1</b>
PRENOM : .....	Objet / Objet technique / Besoin / Fonction d'usage	

**1) Objet / Objet technique :**


Un objet technique ne peut pas se trouver dans la ..... Si on trouve un objet à l'état naturel, il s'agit alors d'un .....

Apparemment, un objet technique est un objet qui a été ..... ou modifié par l'homme.


Exercice 1 : Remplir le tableau suivant

Image	Objet	Objet technique
		
		
		
		
		
		

Exercice 2 : Observer l'image ci-dessous et compléter le tableau en trouvant 4 objets et 4 objets techniques



Objets (" naturels ")	Objets techniques (créés par l'Homme)

NOM : .....	<b>FUNCTIONNEMENT DE L'OBJET TECHNIQUE</b>	<b>S1</b>
PRENOM : .....	<b>Objet / Objet technique / Besoin / Fonction d'usage</b>	

## 2) J'associe un objet technique à un besoin

Pour chaque besoin du tableau, trouve au moins 2 objets techniques :

Se déplacer	Communiquer	Se divertir	Se vêtir	Bricoler
Ex : un vélo				

Question : Peux-tu trouver des objets (naturels) à placer dans le tableau du dessus ?

Oui / Non (coche la bonne réponse)

Quelle est donc l'autre différence entre un objet et un objet technique ?

.....  
.....

## 3) La fonction d'usage

On trouve la fonction d'usage d'un objet technique en se posant la question : « a quoi ça sert ». Trouve la fonction d'usage des objets techniques suivant :

				
Fonction d'usage :				
				
Fonction d'usage :				